

Actividades

1

En la secuencia hay una regularidad. Encuentra mentalmente los números que van en los lugares vacíos y escríbelos:

550	600	650				850		
-----	-----	-----	--	--	--	-----	--	--


2

¿Cuál es el número mayor que se puede formar con las tres tarjetas?

.....

¿Cuál es el número menor que se puede formar con las tres tarjetas?

.....




3

¿Cuál es el número mayor que se puede formar con las tres tarjetas?

.....


¿Cuál es el número menor que se puede formar con las tres tarjetas?

.....




4

Escribe todos los números de tres cifras menores que 500 que se pueden formar con las tarjetas.



5

Escribe todos los números de tres cifras mayores que 500 que se pueden formar con las tarjetas.



6

Escribe todos los números de tres cifras mayores que 600 y menores que 700 que se pueden formar con las tarjetas.

