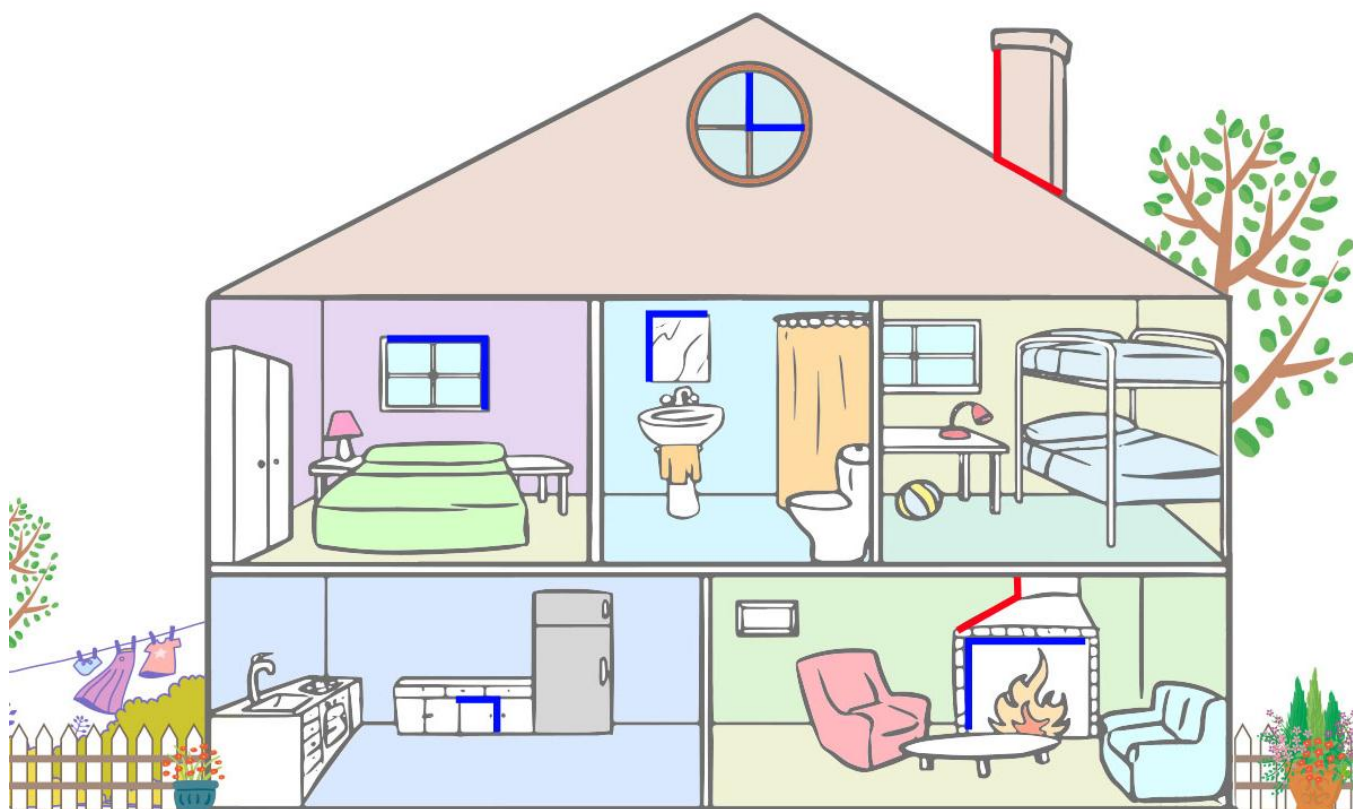




**PAUTA ACTIVIDADES: ACTIVIDADES: ESTIMAR E IDENTIFICAR ÁNGULOS DE MEDIDA 90° O BIEN 45°**

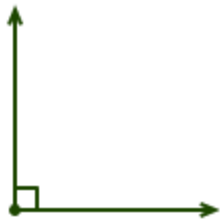
1. Observe la siguiente imagen e identifique con lápiz rojo dos ángulos distintos a la medida de 90° y con lápiz azul cinco iguales a ella.



2. Marque con un  todos los ángulo(s) que midan más de  $90^\circ$



3. ¿Cuál de los siguientes ángulo miden  $90^\circ$ ? Marque con un 

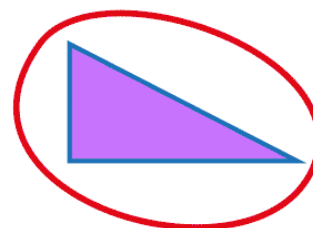


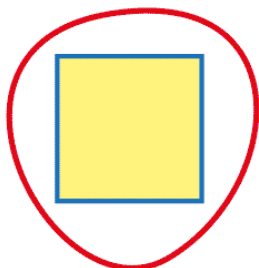
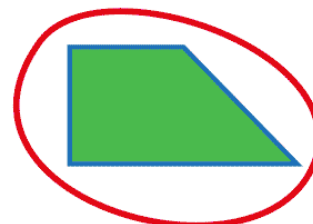

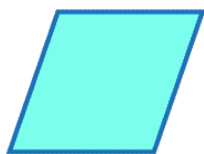
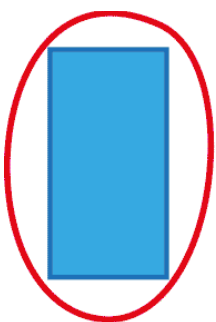


4. Complete la siguiente oración con la palabra más, menos o igual.

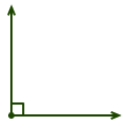


El ángulo de la figura mide   **Más**   de  $90^\circ$ .

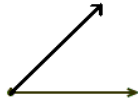
5. Observe los siguientes polígonos y encierre cuál de ellos tiene ángulos que midan  $90^\circ$ .



5. Considerando que :



es un ángulo que mide  $90^\circ$  y



es un ángulo que mide  $45^\circ$

Estime la medida de los siguientes ángulos, escríbalas en los espacios recuadros

