







1

				
Se dice: 5	más	4	es igual a
Se escribe: 5	+	4	=


2

				
Se dice:	más	es igual a
Se escribe:	+	=

3

				
.....	+	=

4

 <p>Echo estas fichas</p>	 <p>Echo estas fichas</p>	 <p>Ahora hay ___ fichas</p>		
.....	+	=

5

 <p>Echo 11 fichas</p>	 <p>Y yo echo 7 fichas</p>	 <p>Ahora hay ___ fichas</p>		
.....	+	=

6

Dibuja 14 fichas.	Dibuja 3 fichas.	Calcula y completa: $14 + 3 = \dots\dots\dots$
-------------------	------------------	---

7

Dibuja 12 fichas.	Dibuja 6 fichas.	Calcula y completa: $12 + 6 = \dots\dots\dots$
-------------------	------------------	---