

nombre _____

curso _____

fecha _____

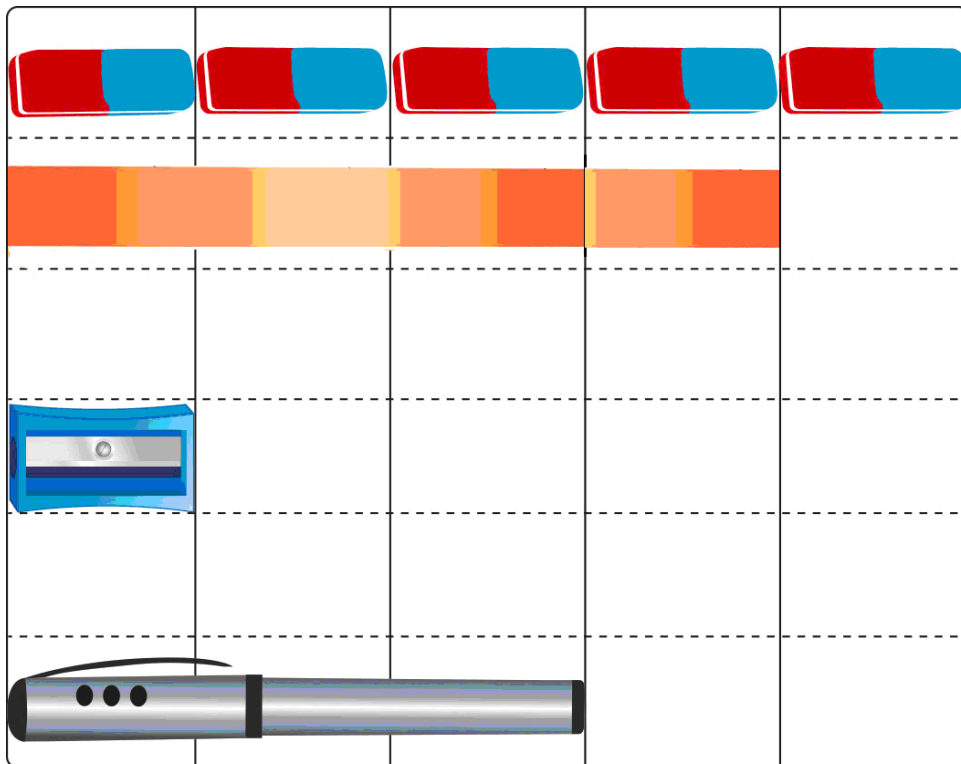
ACTIVIDADES: MEDIR OBJETOS

1. Observe las siguientes imágenes y determine cuánto mide cada lápiz según los clips.

<input type="text"/>	<input type="text"/>	<input type="text"/>	<input type="text"/>	

2. ¿Cuántos clips mide el más largo de todos?



3. Observa las siguientes imágenes y mida.



1. De acuerdo a lo anterior, responde en el espacio asignado

a) El  mide: _____ 


b) La  mide: _____ 

c) El  mide: _____ 

d) Marque con un ¿Cuál mide más?



4. Apoye su mano sobre la línea azul. Luego dibuje el contorno de ella.



a) Escriba cuánto casilleros mide de largo su mano.

b) Midiendo con su regla, los casilleros anteriores, escriba cuántos centímetros mide de largo