

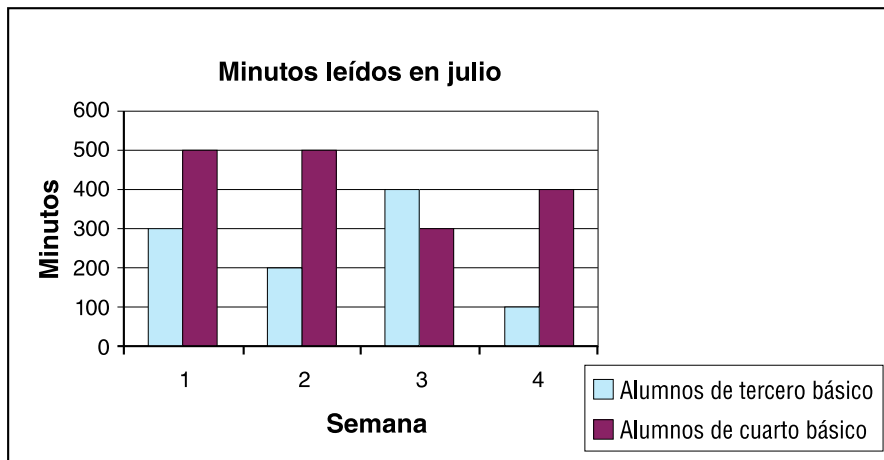
nombre \_\_\_\_\_

curso \_\_\_\_\_

fecha \_\_\_\_\_

**PAUTA ACTIVIDAD: LEEN INFORMACIÓN EN GRÁFICOS DE BARRAS SIMPLE**

1. Durante el mes de julio, los alumnos de tercero y cuarto básico anotaron el número de minutos que leían cada semana y confeccionaron un gráfico el cuál se muestra a continuación:



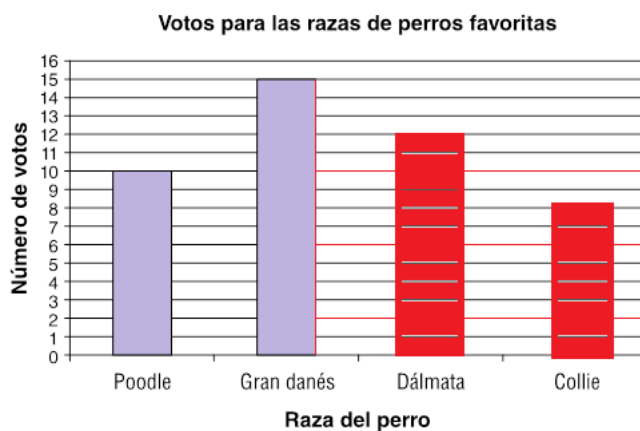
Observando el gráfico complete la oración:

- a) La cantidad de minutos que leyeron los alumnos de tercero básico la cuarta semana es de 100
- b) La primera semana la cantidad de minutos de cuarto básico superó en 200 minutos a la cantidad de alumnos que leyeron en tercero básico.
- c) El total de minutos que leyeron los alumnos de tercero básico en las cuatro semana fue 1 000
- d) El total de minutos que leyeron los alumnos de cuarto básico hasta la segunda semana fue de 1000

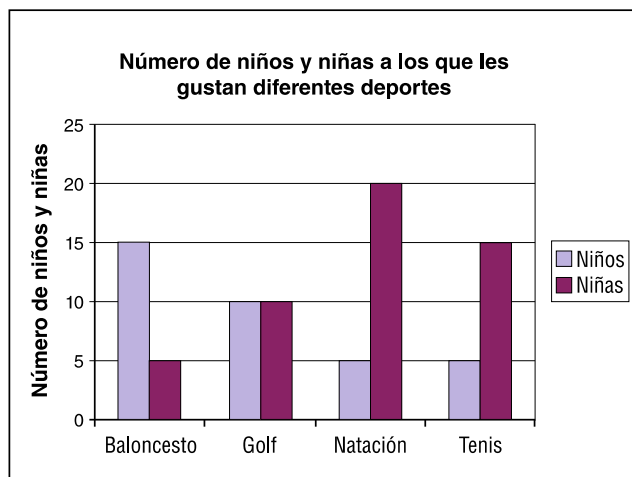
2. Use los datos de la siguiente tabla para completar el gráfico.

### Votos para las razas de perros favoritas

Raza	Número de votos
Poodle	10
Gran Danés	15
Dálmata	12
Collie	8



3. El siguiente gráfico muestra la cantidad de niños que les gusta cierto deporte.



¿Cuántos niños **más** que niñas les gusta el baloncesto?

A 10 niños más les gusta el baloncesto.